

МИНИСТЕРСТВО НА ОБРАЗОВАНИЕТО, МЛАДЕЖТА И НАУКАТА
ЧАСТНО СОУ "ДЕЛФИНИТЕ" - СТАРОЗАГОРСКИ БАНИ
ВИКТОРИНА ПО ИСТОРИЯ ЗА VI - VII КЛАС

ПЪРВИ КРЪГ

1. Решете кръстословицата. Работете хоризонтално. В отвесното поле А ще получите името на известен тракийски войн.

а/ Тракийско племе, населяващо областта около днешния град София.

б/ Свещен скален град на траките, намиращ се в Източните Родопи.

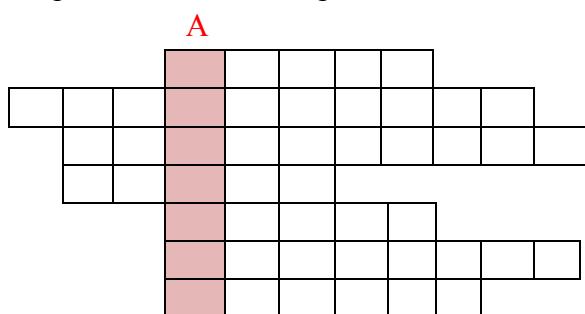
в/ Категория роби в Древен Рим, които по време на тържества се сражават с хора или диви зверове.

г/ Тракийски бог на лова, плодородието, живота и смъртта, изобразяван като конник.

д/ Римски император, основал един от най-привлекателните градове в провинция Тракия, на юг от Стара планина.

е/ Античното име на град Созопол.

ж/ Най - значимият тракийски античен град в Югоизточна България, близо до гр. Ямбол.



2. Подчертайте само тези имена, които са на тракийски племена.

сапеи, трибали, хети, беси, перси, гутеи, гети, аморити, серди

3. Срещу съответното твърдение за траките посочете ВЯРНО/НЕВЯРНО.

а/ Траките вярвали в един бог.

б/ Тракийската общност се формирала от смесването на елински племена с население от Балканския полуостров.

в/ Траките населявали областта от северноегейското крайбрежие до Карпатите, от Черноморското крайбрежие до р. Морава, и земите в северозападна Мала Азия.

г/ Траките се радвали когато се роди дете, а оплаквали покойниците си.

д/ Траките нямали своя писменост, но са ни завещали образи върху съдове, стени на гробниците и плочи.

е/ Древните траки са вярвали в задгробния живот и се прекланяли пред своята богиня Изида.

4. В следния текст на Херодот за траките се съдържат сведения за:

„Като сядат около новороденото, роднините го оплакват колко много злини трябва да претърпи, като се е родил вече... А умрелия заравят в земята, веселейки се, и нареждат от колко много злини се е отървал.“

А) отношението на траките към живота и смъртта

Б) вярата на траките в задгробния живот

В) празненствата на траките

Г) тракийските богове

5. Един от паметниците на тракийската цивилизация, включени в списъка на ЮНЕСКО е:

А) гробницата в Казанлък

Б) тракийският град Перперикон

В) кукерските маскарadni игри

Г) Могиланската могила край Враца

6. В игрословицата са скрити имената на шестима тракийски царе. Открийте ги и ги запишете:

С	Т	С	Ч	Н	Л
Е	О	П	Ф	М	И
Т	Ю	А	В	Е	С
И	Л	Р	З	Д	И
С	Т	А	Р	О	Т
Е	Е	Д	Е	К	А
В	Р	О	З	О	Л
Т	Е	К	К	Л	К
К	С	А	К	Ю	М

А/
 Б/
 В/

Г/
 Д/
 Е/

7. Какво означава понятието " светилище"?

- а/ място за погребване на мъртвите
- б/ място за почитане на мъртвите
- в/ образ на божество
- г/ място за почитане на божества

8. Кое от изображенията е излишно?



А/



Б/



В/



Г/

9. Разпознайте тракийската гробница по нейното описание.

.....
 Лов на глигани

Композиционен център на сцената е черната фигура на глигана. Животното е нападнато отпред от босоног брадат мъж, облечен в къса черна туника, превързана през лявото рамо. Той е забил дългото копие в муцуната на животното. Отзад глиганът е атакуван от голобрад конник с къса къдрава коса, възседнал жълт кон. Той е облечен в розова туника, препасана през кръста, сива риза и обут в червени панталони и сиви обувки. Отляво на бедрото му виси меч. Седлото е от персийски тип. Конят е украсен със сребърна амуниция. Помощ на ловците оказва жълто куче.

10. Коя тракийска гробница представя пъзелът?

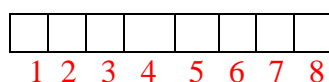
През кой век е построена тя?.....



11. Попълнете липсващото в изреченията.

- а/ По време на похода към Гърция през 480 г. пр. Хр. войските на персийския цар преминали през Тракия.
- б/ Древните гърци нарекли Черно море Евксински понт, което означава
- в/ Одриската държава възникнала в началото на в. пр. Хр.
- г/ По време на Пелопонеската война одрисите воювали на страната на
- д/ През 341 г. пр. Хр. цар покорил държавата на одрисите.
- е/ През I век земите на траките били включени в рамките на империя.

12. От разбърканите букви подредете думи, които да отговарят на условията. Изпишете ги правилно на предвидените редове. Буквата от условие а/, получена в квадратчето, впишете под номер 1 и т. н. При вярно попълнен ред ще получите наименованието на тракийски култов комплекс в България.



- | | | |
|--|----------|--|
| а/ Столицата на Одриското царство | УАМАКДСУ | — <input type="checkbox"/> — — — — — |
| б/ Тракийски цар, получил римско гражданство от Октавиан Август | ЕТЛЕКАМР | — — — — — <input type="checkbox"/> — — — — — |
| в/ Името, с което е известен бог Дионис в Древна Тракия | ЗЙБАСИА | — — — — — <input type="checkbox"/> — — — — — |
| г/ Тракийското име на р. Марица | БОХРСЕ | — — — — — <input type="checkbox"/> — — — — — |
| д/ Тракийско племе, населявало областта около р. Струма | НИДОЕ | — — — — — <input type="checkbox"/> — — — — — |
| е/ Одриски цар | СОТИК | — — — — — <input type="checkbox"/> — — — — — |
| ж/ Леко въоръжен и бързо подвижен тракийски пехотинец | СЛЕТАПТ | — — — — — <input type="checkbox"/> — — — — — |
| з/ Мегалитни гробници, изградени от няколко положени отвесно каменни плочи и покрити с друга каменна плоча | МОЛЕНД | — — — — — <input type="checkbox"/> — — — — — |

13. От изброените тракийски съкровища посочете това, което е най - старо .

- а/ Вълчитрънското съкровище в/ Рогозенско съкровище
- б/ Съкровището от с. Борово г/ Панагюрско съкровище

14. За кой град става въпрос в описанието?

Древен тракийски град, основан от цар Севт III, като от 320 г. пр. Хр. е столица на Одриската държава. Днес той се намира в долната част на язовир Копринка, близо до гр. Казанлък.

Градът е опасан с крепостна стена, дълга 890 м. От двете градски порти тръгват две широки главни улици, които в центъра се пресичат под прав ъгъл и оформят голям градски площад със светилище на Дионис. Тук живеели 50-ина семейства на одриската аристокрация. Царската резиденция е в североизточния край. Дворецът на Севт III е двуетажен, фасадата му е дълга 40 м и е с богата украса. От многобройните помещения изпъква просторна зала, разкошно украсена с многоцветна мазилка, наподобяваща мрамор.

Градът съществувал до началото на III в. пр.Хр., когато бил опожарен и разрушен. Археолозите са открили много луксозни старогръцки керамични съдове, украшения, фрагменти от каменни скулптури, амфори и др.

15. Напишете съвременните имена на посочените антични градове:

- а/ Анхиало - г/ Бонония -
б/ Бизоне - д/ Берое -
в/ Дионисополис - е/ Пулпудева -

16. Разгледайте изображенията и отговорете на въпросите.

- а/ В коя тракийска могила са открити следните златни предмети?.....
б/ Къде се намира тя?
в/ Кой тракийски владетел е погребан в нея?
г/ Кой е археологът, открил съкровището?



17. "Кой съм аз?" Разпознайте историческата личност.

- а/ Аз съм първият от поредицата "войнишки императори" в Рим. Управлението ми започна през 235 г. и приключи в 238 г. Роден съм в земята на траките. Отличавам се с грамадния си ръст и суровия нрав. Горд и високомерен съм, но много пъти и справедлив.
б/ Аз съм вторият от т.нар. "Петима добри императори" на Рим. Управлявах държавата от 98 до 117 г. Водих две войни с даките, в резултат на което организирах последната провинция върху тракийските земи - Дакия. Построих градовете Марцианополис, Никополид ад Иструм, Августа Траяна.



18. Римски архитектурни елементи в тракийските земи.

- а/ Римски вид бани, състоящи се от няколко помещения: съблекалня, зала с басейн със студена вода, зала с басейн с топла вода, зала с басейн с гореща вода. Те били център на обществения живот.
б/ Главният градски площад, център на политическия, обществения и културния живот

19. Мизите населявали земите, разположени между:

- а/ Стара планина и Витоша б/ Родопите и Егейско море
в/ река Дунав и Стара планина г/ река Марица и Черно море

20. Напишете наименованията на представените културно - исторически обекти, свързани с тракийската цивилизация.



.....

.....

.....