

МИНИСТЕРСТВО НА ОБРАЗОВАНИЕТО, МЛАДЕЖТА И НАУКАТА
ЧАСТНО СОУ "ДЕЛФИНИТЕ" - СТАРОЗАГОРСКИ БАНИ
ВИКТОРИНА ПО ИСТОРИЯ ЗА IV - V КЛАС

ПЪРВИ КРЪГ

1. Посочете името на древната цивилизация, която е развила посочената дейност по българските земи. /тракийска, елинска, римска/

а/ строителство на площи с красиви храмове, стадиони, театри, в които се говорело на латински език -

б/ изработка на ритуални съдове от злато и сребро с много високо качество -

в/ строителство на гробници и обожествяване на природните сили -

г/ основаването на нови градове от държавен тип по българското Черноморие -

д/ изграждане и поддържане на гъста мрежа от пътища -

е/ обновяване на старите и създаване на нови градски центрове с павирани улици, водопровод и бани -

2. Какви сведения могат да се извлекат от описанието на тракийския вожд Резос?

Между тях е Резос... неговите коне са най - хубавите и най - едрите, каквито съм виждал, по - бели от сняг, бързобеги като вихър. Колесницата му е хубаво украсена със злато и със сребро. Той дойде с оръжия, огромни, дивни да ги видиш; не прилича на смъртни мъже да ги носят, а на безсмъртните богове.

Омир, "Илиада", VIII в. пр. Хр.

а/ Траките отглеждат великолепни коне.

б/ Тракийските вождове имат значителни богатства.

в/ Траките умеят изкусно да обработват злато и сребро.

г/ Всичко изброено.

3. В игрословицата са скрити имената на шест тракийски племена. Открийте ги и ги запишете:

П	В	Т	О	З	Ж
М	Б	Р	С	М	У
И	Г	И	С	О	Д
З	Д	Б	Е	Д	А
И	Г	А	Р	Р	К
Ф	Е	Л	Д	И	И
К	Т	И	И	С	П
Г	И	С	К	И	А
Д	Ж	У	Л	М	Ф

А/

Г/.....

Б/.....

Д/.....

В/.....

Е/.....

4. Срещу текстовете, които описват частите на наколенника напишете съответната цифра от изображението.

- а/ Фигури на два лъва
- б/ Широки позлатени ленти върху лицето
- в/ Женска глава с много къдрици
- г/ Орел напада змия
- д/ Художествено представени криле на птица



5. Подчертайте грешното в изреченията и на определеното място запишете правилното, така че твърденията да отговарят на истината.

- А/ Траките били описани за пръв път от древногръцкия поет Херодот през VIII в. пр. Хр.. -
- Б/ Най - многобройното тракийско племе били гетите, които населявали земите между р. Марица и Черно море. -
- В/ За основател на Одриското царство се смята владетелят Ситалк. -
- Г/ Траките създали писменост на своя език, но ползвали и гръцката. -

6. На кое от изображенията е представена бронзовата глава на тракийския цар Севт III ?



а/

б/

в/

г/

Находката е открита в могилата: а/ Оструша; б/ Светицата; в/ Голямата косматка.

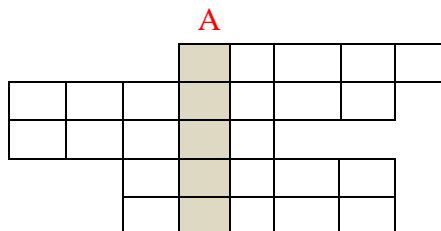
Къде се намират посочените могили?

- а/ В Долината на тракийските царе;
- б/ В Долината на тракийските богове;
- в/ В Долината на тракийските жреци

7. Древните траки са вярвали в безсмъртието и задгробния живот. Те се прекланяли пред:

- а/ Великата богиня майка
- б/ Зевс
- в/ Изида
- г/ Юнона

8. Решете кръстословицата./Работете хоризонтално/. Под отвесно А ще получите наименованието на тракийско скално светилище от Родопите



- а. Основателят на Одриското царство.
- б. Украса на стена или под, изработена от разноцветни камъчета или късчета цветно стъкло.
- в. Металът, от който е изработено Вълчитрънското съкровище.
- г. Архитектурен елемент от тракийските гробници, заемащ горната половина и наподобяващ сфера.
- д. Название на древните гърци.

9. От разбърканите букви подредете думи, които да отговарят на условията. Изпишете ги правилно на предвидените редове. Буквата от условие а/, получена в квадратчето, впишете под номер 1 и т. н.

При вярно попълнен ред ще получите наименованието на българско село, до което се намира една от най-известните тракийски гробници.

1	2	3	4	5

- а/ Тракийско племе, населявало Северозападна България
- б/ "Бащата" на историята
- в/ Сплав от мед и калай
- г/ Тракийска богиня
- д/ "Град" на мъртвите в древността

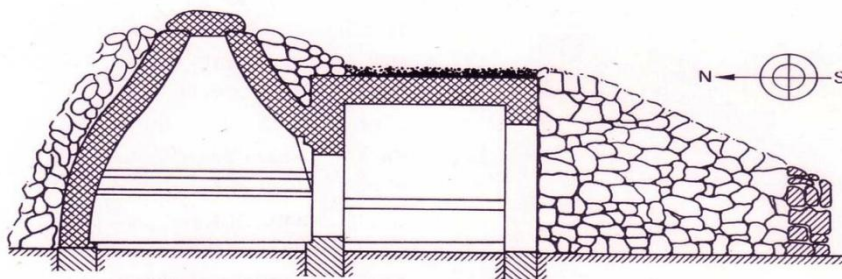
ЗИИМ
ДОТРОЕХ
РОНЗЪ
ДАНЕБИД
КЛЕРОПОН

10. От коя тракийска гробница е стенописът, представен под формата на части от пъзел.

През кой век е построена тя?



11. Попълнете на съответните места частите, от които се състои тракийската гробница: *коридор, гробна камера, преддверие.*



..... / /

12. Кое от посочените полета е известно като "Долината на тракийските царе"?

- а/ Пловдивското поле
- б/ Софийското поле
- в/ Пазарджишкото поле
- г/ Казанлъшкото поле

13. Кое от изброените археологически открития НЕ е свързано с тракийското изкуство?

- А) Казанлъшката гробница
- Б) Панагюрското златно съкровище
- В) златната маска на цар Терес
- Г) Варненският некропол

14. Разпознайте историческата личност по описанието.

Гладиатор, който оглавява най - голямото робско въстание срещу Рим. Той е тракиец от племето меди, населявало средното поречие на река Стримон /Струма/.

15. Един от най-величествените мегалитни паметници, открити по нашите земи, е Тракийското светилище край село Татул, община Момчилград. То се намира само на 200 м от селото и на около 15 км от Момчилград.

Учените изказват хипотезата, че в него се намира Храмът на легендарен тракийски цар и жрец. Кой е той?

16. Най-голямото проучено скално светилище на Балканския полуостров е известно с гръцкото по произход име Перперикон. Това е светилището на бог Дионис. Според оскъдните исторически сведения и вярвания, в него е предсказано на Александър Македонски завоеванията му в Азия, а на бащата на Октавиан Август - че синът му ще стане господар на целия свят.

До кой български град се намира светилището?

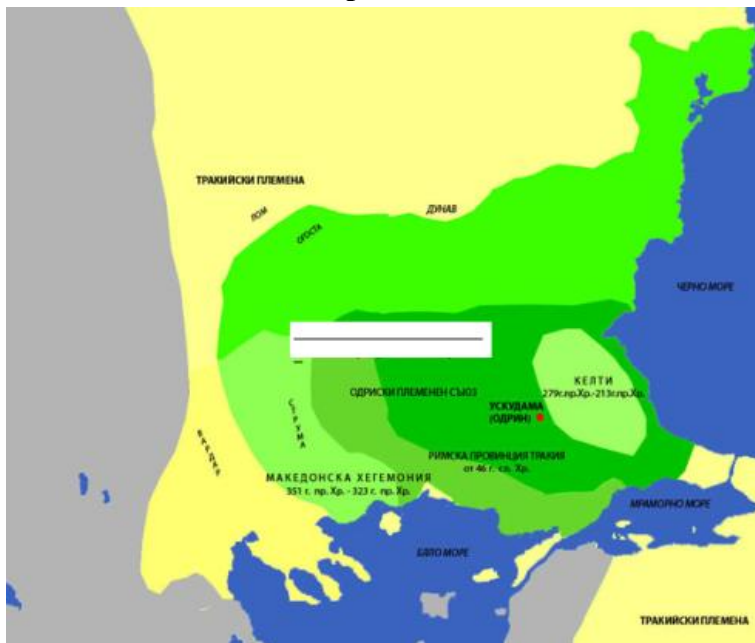
17. Кои божества не са част от тракийската религия?

- а/ героят конник, изобразяван върху каменни плочи
- б/ Великата богиня майка и нейният син - богът Слънце
- в/ митичният цар-жрец Орфей
- г/ бог Озирис и съпругата му Изида

18. Напишете съвременните имена на посочените антични градове:

- | | |
|----------------|----------------|
| а/ Пулпудева - | г/ Одесос - |
| б/ Сердика - | д/ Месемврия - |
| в/ Берое - | е/ Аполония - |

19. Разгледайте картата. Напишете името на държавата



20. През I век Римската империя подчинила траките и ги включила в рамките на нейната държава. Напишете две важни последици, настъпили в тракийското общество след тази промяна.

- а/.....
- б/.....